

SA's Leading Past Year

Exam Paper Portal

STUDY

You have Downloaded, yet Another Great Resource to assist you with your Studies 😊

Thank You for Supporting SA Exam Papers

Your Leading Past Year Exam Paper Resource Portal

Visit us @ [www.saexampapers.co.za](http://www.saexampapers.co.za)



SA EXAM  
PAPERS



# basic education

---

Department:  
Basic Education  
**REPUBLIC OF SOUTH AFRICA**

## **SENIORSERTIFIKAAT-EKSAMEN/ NASIONALE SENIORSERTIFIKAAT-EKSAMEN**

**VISUELE KUNSTE V1**

**2021**

**PUNTE: 100**

**TYD: 3 uur**

**Hierdie vraestel bestaan uit 19 bladsye.  
Hierdie vraestel moet in volkleur gedruk word.**

**INSTRUKSIES EN INLIGTING**

In hierdie eksamen moet jy die volgende vaardighede toon:

- Gebruik van die korrekte kunsterminologie
- Gebruik en toepassing van visuele analise/ontleding en kritiese denke
- Skryf- en navorsingsvaardighede in 'n geskiedkundige en kulturele konteks
- Plaas van spesifieke voorbeelde in 'n kulturele, sosiale, politieke en historiese konteks
- Begrip van eiesoortige kreatiewe style

Lees die volgende instruksies voordat jy besluit watter vrae om te beantwoord.

1. Hierdie vraestel bestaan uit AGT vrae.
2. Beantwoord enige VYF vrae vir 'n totaal van 100 punte.
3. Nommer die antwoorde korrek volgens die nommeringstelsel wat in hierdie vraestel gebruik is.
4. Vrae verskyn op die linkerkantse bladsye, met visuele bronne op die regterkantse bladsye.
5. Maak seker dat jy na die kleurafdrukke van die visuele bronne verwys waar dit vereis word.
6. GEEN punte sal toegeken word vir inligting wat in een antwoord bespreek en in ander antwoorde herhaal word NIE. Kruisverwysing van kunswerke is toelaatbaar.
7. Noem die kunstenaar en titel van ELKE kunswerk wat jy in jou antwoorde bespreek. Onderstreep die titel van 'n kunswerk of die naam van 'n gebou.
8. Kandidate mag NIE beelde wat alreeds in ander vrae gebruik is, bespreek NIE.
9. Skryf op 'n duidelike, kreatiewe en gestruktureerde manier en gebruik volsinne en paragrawe volgens die instruksies van elke vraag. 'n Lys met feite/tabelle word NIE aanvaar NIE.
10. Gebruik die volgende riglyne vir die lengte van jou antwoorde. Let op die puntetoekenning.
  - 6–8 punte: 'n minimum van  $\frac{1}{2}$ – $\frac{3}{4}$  bladsy
  - 10–14 punte: 'n minimum van 1–1 $\frac{1}{2}$  bladsy(e)
  - 20 punte: 'n minimum van 2 bladsye
11. Skryf netjies en leesbaar.

**LAAT HIERDIE BLADSY OOP.**

**BEANTWOORD ENIGE VYF VRAE.****VRAAG 1: DIE STEM VAN OPKOMENDE KUNSTENAARS**

Gerard Bhengu het gefokus op sy onmiddellike omgewing as 'n bron van inspirasie, waar hy alledaagse tonele vasgevang het.

1.1 Analiseer FIGUUR 1a krities in 'n opstel.

Gebruik die volgende riglyne:

- Bespreek die elemente van kuns (lyn, kleur en tekstuur)
- Identifiseer die fokuspunt en gee 'n rede vir jou antwoord
- Bespreek hoe die kunstenaar perspektief skep
- Styl/Tegniek

(10)


1.2 Baie kunstenaars het hulle plekke, ondervindings en alledaagse lewe deur hulle kunswerke aangeteken.

Bespreek die kunswerke van enige TWEE kunstenaars (EEN werk per kunstenaar) in 'n opstel. Noem die name van die kunstenaars en die titels van die kunswerke.

(10)  
[20]

**Isangoma:** Suid-Afrikaanse tradisionele geneser





FIGUUR 1a: Gerard Bhengu, *Consulting the Isangoma (Raadpleeg die Isangoma)*, waterverf op papier, c.926–1936.

**VRAAG 2: SUID-AFRIKAANSE KUNSTENAARS BEÏNVLOED DEUR AFRIKA-  
EN/OF INHEEMSE KUNSVORMS**

Sang, dans en musiek is deel van 'n mens se kultuur en tradisie. Mahlangu verken sy Afrika-erfenis as inspirasie vir sy skilderye terwyl Picasso drie verwronge figure in 'n dansopvoering gebruik.

2.1 Vergelyk FIGUUR 2a met FIGUUR 2b deur na enige VIER van die volgende te verwys:

- Kleur
- Komposisie
- Ritme/Beweging
- Invloede
- Styl

(10)

2.2 Skryf 'n kort opstel oor EEN kunstenaar se werk wat Afrika-erfenis verken. Noem die kunstenaar en titel van die kunswerk. Verwys na TWEE kunswerke.

Oorweeg die volgende in jou antwoord:


- Onderwerp
- Formele kunselemente
- Invloede van Afrika en/of inheemse kunsvorme
- Media

(10)  
**[20]**





FIGUUR 2a: Speelman Mahlangu, *Dancing Figures (Dansende Figure)*, olie op papier, 1984.



FIGUUR 2b: Pablo Picasso, *Three Dancers (Drie Dansers)*, olie op doek, 1925.



**VRAAG 3: SOSIOPOLITIEKE KUNS, WEERSTANDSKUNS VAN DIE 1970's EN 1980's INGESLUIT**

Swaargepantserde voertuie van die Suid-Afrikaanse veiligheidsmagte was dikwels gedurende die 1980's in baie townships teenwoordig. Paul Sibisi beeld sy ondervindinge hiervan in die Umkhumbane-township, KwaZulu-Natal uit, terwyl Zan Louw haar waarneming in Langa, Kaapstad, uitbeeld.

3.1 Vergelyk FIGUUR 3a en FIGUUR 3b deur op die volgende te reageer:

- Emosionele kleur
- Lewer kommentaar op die figure in beide kunswerke
- Gepastheid van die titels
- Die gebruik van lyn en die doeltreffendheid daarvan

(10)

3.2 Skryf 'n opstel waarin jy die werk van enige TWEE Suid-Afrikaanse kunstenaars (EEN werk per kunstenaar) bespreek wie se werk weerstand teen 'n samelewing en/of politieke sisteem weerspieël.

Gebruik die volgende riglyne:

- Bespreek hoe die onderwerp en die komposisie gerangskik is
- Invloed(e)
- Media en tegniek
- Die intensie/bedoeling van die kunstenaar. Wat probeer hy/sy/hulle oordra?

(10)

**[20]**





FIGUUR 3a: Paul Sibisi, *Stop it now!! Now!! (Stop dit nou!! Nou!!)*, ink op papier, 1986.



FIGUUR 3b: Zan Louw, *Bunghastraat Langa*, monodruk op papier, 1986.



**VRAAG 4: KUNS, KUNSVLYT EN GEESTELIKE WERKE HOOFSAAKLIK UIT LANDELIKE SUID-AFRIKA**

Baie kunstenaars druk hulle eie interpretasie van geestelikheid uit en beeld sodoende soms vereenvoudigde en verwronge afbeeldings uit. Hulle werk is eerlik, met duidelike boodskappe, wat hulle ware geloof weerspieël.

4.1 Bespreek FIGUUR 4a en 4b, en skryf 'n paragraaf waarin jy na sommige van die volgende verwys:

- Die gebruik van lyn en tekstuur in die beeldhouwerke
- Hoe die kunstenaar beweging in die beeldhouwerke oordra
- Die uitdrukking op die gesigte van die figure in beide kunswerke
- Hoe die kunstenaars verwringing in beide kunswerke gebruik het

(8)

4.2 Bespreek die werk van enige TWEE kunstenaars wat kuns, kunsvlyt en/of geestelike werke van landelike Suid-Afrika skep.

Verwys na die volgende riglyne:

- Invloede
- Media en tegnieke
- Moontlike betekenis/doel/funksie
- Hoe hierdie kunswerke/kunsvlyte/geestelike werke tot die samelewing bydra. Bespreek jou antwoord breedvoerig.

(12)  
**[20]**



FIGUUR 4b: Sydney Khumalo, **Moses and disciples** (*Moses en dissipels*), (47 cm x 64 cm) bronsbeeld, 1970.



FIGUUR 4a: Jackson Hlungwani, **Angel (Engel)**, uit hout gekerf (59 cm x 62 cm), datum onbekend.



**VRAAG 5: MULTIMEDIA EN NUWE MEDIA – ALTERNATIEWE KONTEMPORÊRE EN POPULÊRE KUNSVORME IN SUID-AFRIKA**

Die kunstenaar, Sigalit Landau, het besluit om 'n swart rok in die Dooie See te dompel. Die swart rok het vir twee maande onder die soutryke water gelê. Die projek is 'n fotografiese reeks van agt dele waarin die kunstenaar die geleidelike proses van soutkristallisering vasvang.

Deur te verwys na die visuele bronne in FIGUUR 5a en 5b, skryf 'n opstel waarin jy die punte hieronder bespreek.

- Hoe het die rok oor 'n tydperk van twee maande getransformeer/verander? Motiveer jou antwoord.
- Lewer kommentaar op die oorspronklike styl van die rok en die simbolisme wat geskep is.
- Hoekom het die kunstenaar die kristalliseringsproses gedokumenteer?
- Is die werklike onderwaterbeeld meer effektief as die reeks foto's? Motiveer jou antwoord.
- Dink jy dit is 'n gepaste van titel vir die werk. Motiveer jou antwoord.
- Bespreek die werk van EEN Suid-Afrikaanse multimedia- en/of nuwe mediakunstenaar.

**[20]**

**Kristallisering:** Dit is die proses waartydens vaste stowwe gevorm word wanneer die atome en molekules in 'n struktuur, bekend as 'n kristal, gerangskik word.

**Dooie See:** Die Dooie See is 'n soutwatermeer wat tussen Israel en Jordanië in die Midde-Ooste geleë is. Die soutwatermeer het 'n hoë sout- en mineraalinhoud en is bekend as die laagste punt op Aarde. Geen plante of diere kan in hierdie meer leef nie omdat dit amper tien keer meer sout as gewone seewater bevat. Die Dooie See is ook 'n toeriste-aantreklikheid bekend vir heling/afskilfering van die vel.



FIGUUR 5a: Sigalit Landau, **Salt Bride (Soutbruid)**, reeks foto's (163 cm x 109 cm) van die proses van soutaangepakte swart rok in die Dooie See, 2014.



FIGUUR 5b: Detail van soutbeeldhouwerk wat na afloop van die proses uit die Dooie See gehaal is

**VRAAG 6: DEMOKRATIESE IDENTITEIT IN SUID-AFRIKA NÁ 1994**

**'I wanted to paint something that they would feel belongs to them' –Faith 47  
(Ek wou iets skilder wat hulle sou voel aan hulle behoort' – Faith 47)**

Die Warwick Junction-mark word dikwels as 'n 'gevaarsonse' beskou, maar die muurskilderye vier nou die identiteit van die handelaars van die mark deur hulle beelde op die ondersteunende pilare van die brug te monumentaliseer.

6.1 Verwys na die stelling hierbo en bespreek in 'n opstel hoe die kunstenaar sosiale identiteit deur die muurskilderye in FIGUUR 6a–6d uitgebeeld het.

Verwys na die volgende:

- Hoe hierdie muurskilderye die handelaars se identiteite weerspieël
  - Die gebruik van kleur, patroon, simbole en kleredrag
  - Stemming of atmosfeer wat hierdie muurskilderye skep
  - Die effektiwiteit van die afbeeldings op die pilare van die brug.
- Verduidelik jou antwoord. (8)

6.2 Bespreek die werk van enige TWEE kunstenaars (EEN werk per kunstenaar) wat identiteit in 'n demokratiese Suid-Afrikaanse samelewing ondersoek. Benoem die kunstenaars en die titel van die kunswerke.


Verwys na die volgende riglyne:

- Beeldgebruik
- Uitbeelding van identiteit
- Styl en tegnieke
- Betekenis/Boodskappe

(12)  
[20]

**Monumentaal:** Kolossale/Enorme skaal of meer as lewensgroot. Gee erkenning aan en vereer persone van belang.





FIGUUR 6a-d: Faith 47, **Warwick Driehoek-  
muurskildery**, foto van muurskildery  
deur Kierren Allen en Mark Edwards,  
Durban, Suid-Afrika, 2014.  
Die portrette toon die handelaars van die mark.



**VRAAG 7: GESLAGSKWESSIES: MANLIKHEID EN VROULIKHEID**

7.1 Die liggaams houdings van die vrouens in FIGUUR 7a–7c vertel baie verskillende stories. Bespreek hierdie stelling deur na die volgende te verwys:

- Kleur
- Liggaamstaal/-houding
- Stemming/Atmosfeer
- Boodskap/betekenis

(10)

7.2 Skryf 'n opstel waarin jy TWEE kunswerke bespreek wat kommentaar lewer oor stereotipiese persepsies van geslag. Noem die kunstenaar en titel van die werk.

(10)  
**[20]**



FIGUUR 7a: Melissa Huang, **Melissa**, olie op doek, 2012.



FIGUUR 7b: Loyiso Mkize, **Inyanga neenkwenkwezi (The moon and stars) (Die maan en die sterre)**, olie op doek, datum onbekend.



FIGUUR 7c: Boyce Magandela, **Nthabiseng (The Basotho Queen (Die Basotho-koningin))**, akriel op kombers (die kombers word as 'n skilderdoek gebruik), 2017.  
(\*Nthabiseng: maak my gelukkig)

**VRAAG 8: ARGITEKTUUR IN SUID-AFRIKA**

Soos wat bouetegniese en tegnologie verander, so word meer kreatiewe strukture gebou. Die skraal, gewapendebetondak van die kapel gee die gebou sy vloeibaarheid, wat die krulle van die 'holbol'-gewels wat tipies van alle Kaap-Hollandse huise is, komplementeer.

8.1 Skryf 'n paragraaf oor FIGUUR 8a, 8b en 8c waarin jy na die volgende verwys:

- Bespreek die ooreenkomste tussen FIGUUR 8a en 8b.
- Beskryf die lineêre effek wat op die geboue geskep is
- Verduidelik hoe die ontwerp van die gebou in FIGUUR 8a en 8c by die omgewing inskakel. Motiveer jou antwoord.
- Lewer kommentaar op die vensters in FIGUUR 8a, 8b en 8c.

(8)

8.2 Bespreek enige TWEE Suid-Afrikaanse geboue wat jy bestudeer het. Noem die argitek en titel van die gebou/struktuur.

Oorweeg sommige van die volgende in jou antwoord:

- Lokalisering/Plek
- Funksie/Doel
- Invloede
- Materiaal gebruik
- Ontwerp en styl

(12)  
[20]

**Gewel:** Dit is die dekoratiewe verskynsel bokant die voordeur.

**Holbol:** Dit het 'n binnetoebuitentoe simmetriese kurwe wat verwys na 'hol', en bol (bal) waarvandaan die gewel sy naam gekry het.



FIGUUR 8a: 17<sup>de</sup> eeu, **Kaaps-Hollandse Huis** met grassdak, foto deur Janet Davis.



FIGUUR 8b: Steyn Studio en plaaslike argitekte TV3, **Bosjes-kapel (kerk)**, Kaap, 2016.



FIGUUR 8c: Steyn Studio en plaaslike argitekte TV3, **Bosjes-kapel (kerk)**, Wes-Kaap, Suid-Afrika, 2016.

TOTAAL: 100