

SA EXAM PAPERS This Paper was downloaded from SAEXAMPAPERS
SA's Leading Past Year

Exam Paper Portal



You have Downloaded, yet Another Great Resource to assist you with your Studies 😊

Thank You for Supporting SA Exam Papers

Your Leading Past Year Exam Paper Resource Portal

Visit us @ www.saexampapers.co.za



**SA EXAM
PAPERS**

SA EXAM PAPERS

Proudly South African



This Paper was downloaded from SAEXAMPAPERS

GAUTENG PROVINCE

EDUCATION
REPUBLIC OF SOUTH AFRICA

**JUNIE EKSAMEN
GRAAD 12**

2026

FISIESE WETENSKAPPE: CHEMIE

(VRAESTEL 2)

FISIESE WETENSKAPPE V2



C2842A

TYD: 3 uur

PUNTE: 150

14 bladsye + 2 gegewensblaaie

X05



SA EXAM PAPERS

Proudly South African

**INSTRUKSIES EN INLIGTING**

1. Hierdie vraestel bestaan uit SEWE vrae. Beantwoord AL die vrae in die ANTWOORDBOEK.
2. Begin ELKE vraag op 'n NUWE bladsy in die ANTWOORDBOEK.
3. Nommer die antwoorde korrek volgens die nommeringstelsel wat in die vraestel gebruik is.
4. Laat EEN reël tussen subvrae oop, bv. VRAAG 2.1 en VRAAG 2.2.
5. Jy mag 'n nie-programmeerbare sakrekenaar gebruik.
6. Jy mag toepaslike wiskundige instrumente gebruik.
7. Toon ALLE formules en vervangings in ALLE berekeninge.
8. Rond jou finale numeriese antwoorde tot 'n minimum van TWEE desimale plekke af.
9. Verskaf kort beskrywings, ens. waar benodig.
10. Jy word aangeraai om die aangehegte GEGEWENSBLAAIE te gebruik.
11. Skryf netjies en leesbaar.

**SA EXAM PAPERS**

Proudly South African

VRAAG 1: MEERVOUDIGEKEUSE-VRAE

Verskeie opsies word as moontlike antwoorde vir die volgende vrae gegee. Elke vraag het slegs EEN korrekte antwoord. Kies die antwoord en skryf slegs die letter (A – D) langs die vraagnommers (1.1 tot 1.10) in die ANTWOORDBOEK neer, bv. 1.11E

1.1 Watter van die volgende is 'n voorbeeld van 'n onversadigde koolwaterstof?

- A C_2HCl_3
- B C_4H_8
- C C_3H_8
- D C_3H_7OH

(2)


1.2 'n Verbinding met die molekulêre formule $C_6H_{12}O$ kan moontlik die volgende wees:

- i. 'n Ester
- ii. 'n Keton
- iii. 'n Aldehyd

- A Slegs (i)
- B Slegs (i) en (ii)
- C Slegs (ii) en (iii)
- D (i), (ii) en (iii)

(2)

1.3 Die onderstaande vergelyking verteenwoordig die kraging van 'n lang koolwaterstof ketting.

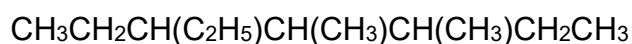


Watter van die volgende verteenwoordig verbinding X?

- A Etanol
- B Etyl
- C Eteen
- D Etaan

(2)

1.4 Gee die IUPAC-naam van die organiese verbinding hieronder.



- A 4-etiel-2,3-dimetielheptaan
- B 3-etiel-4,5-dimetielheptaan
- C 4-etiel-5,6-dimetielheptaan
- D 2,3-dimetiel-4-etielheptaan

(2)

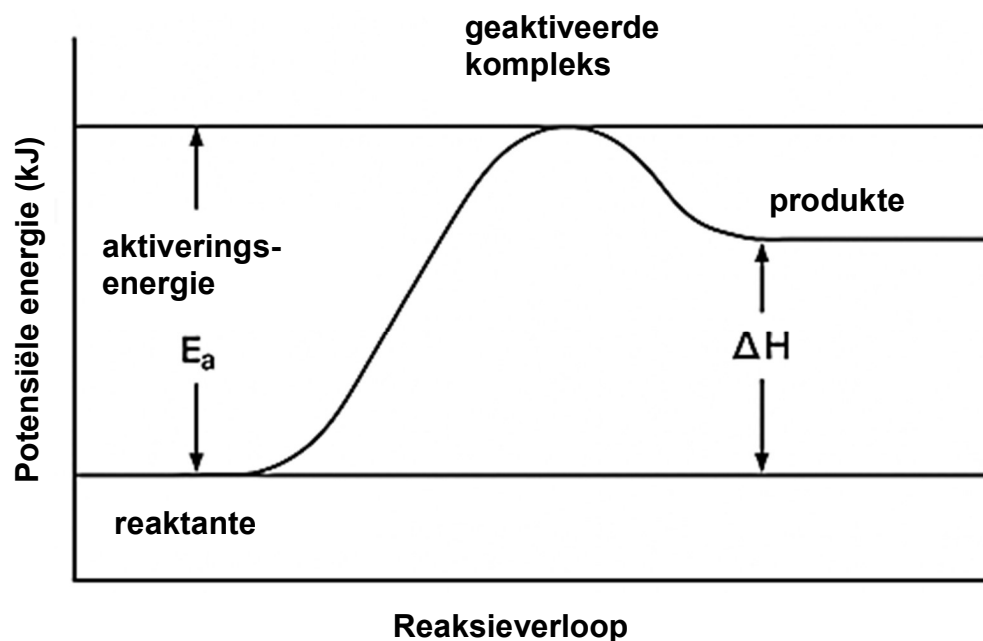
1.5 Watter van die volgende verbindings het die sterkste Van der Waals-kragte?

- A $CH_3(CH_2)_2CH_3$
- B $CH_3COCH_2CH_3$
- C $CH_3COOCH_2CH_3$
- D $CH_3CH(OH)CH_2CH_3$

(2)



1.6 Die diagram hieronder toon die energie profiel van 'n endotermiese reaksie.



Watter van die volgende beskryf die effek van 'n KATALISATOR op die aktiveringsenergie en die entalpieverandering vir die terugwaartse reaksie, korrek?

	AKTIVERINGSENERGIE	ENTALPIEVERANDERING
A	Verhoog	Positief
B	Verlaag	Negatief
C	Verlaag	Bly dieselfde
D	Verhoog	Bly dieselfde

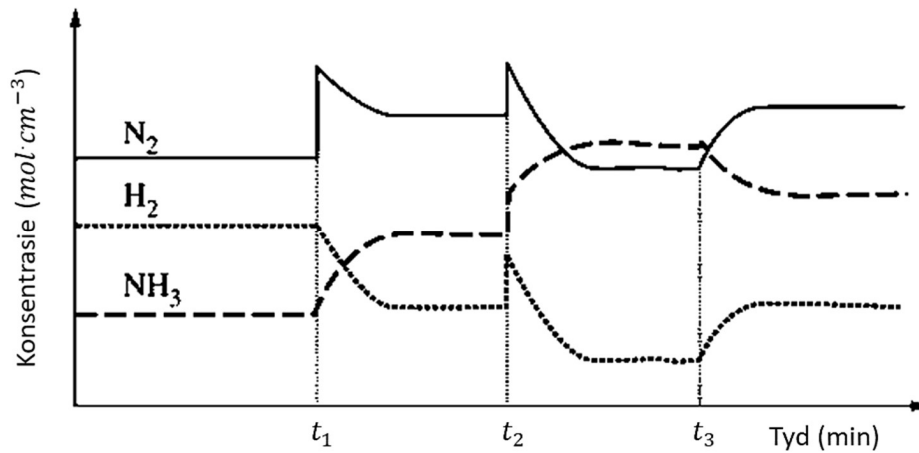
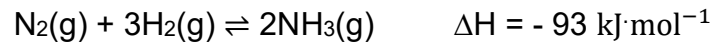
(2)



SA EXAM PAPERS

Proudly South African

- 1.7 Die grafiek hieronder wys die konsentrasies van N_2 , H_2 , en NH_3 teenoor tyd vir die reaksie

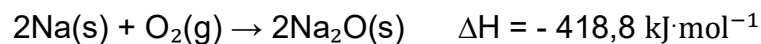


Watter is die KORREKTE voorstelling vir elke tyd in die grafiek?

	t_1	t_2	t_3
A	$[NH_3]$ is verhoog	Druk is verlaag	Temperatuur is verlaag
B	$[N_2]$ is verhoog	Druk is verhoog	Temperatuur is verhoog
C	$[NH_3]$ is verlaag	Temperatuur is verhoog	Druk is verhoog
D	$[N_2]$ is verhoog	Temperatuur is verlaag	Druk is verlaag

(2)

- 1.8 Die reaksie tussen natrium en suurstof is:



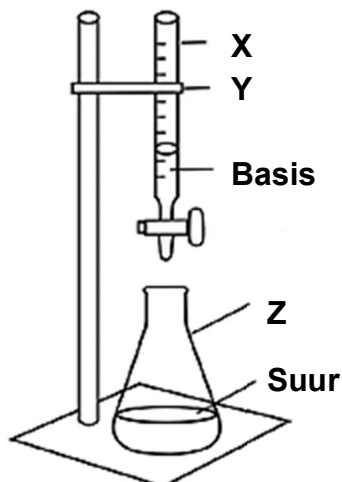
As die ewewigskonsentrasie van $O_2(g)$ by 25°C gelyk is aan $Y \text{ mol}\cdot\text{dm}^{-3}$, sal die waarde van die ewewigskonstante by die temperatuur gelyk wees aan:

A	$\frac{1}{[Y]}$
B	$\frac{1}{[Y]^2}$
C	$[Y]^2$
D	Y

(2)



- 1.9 Leerders voer 'n titrasie eksperiment uit deur van die onderstaande apparaat gebruik te maak.



Die korrekte beskrywing vir X,Y en Z is ...

	X	Y	Z
A	Buret	Driepootstander	Beker
B	Pipet	Driepootstander	Koniese fles
C	Pipet	Retortstander	Beker
D	Buret	Retortstander	Koniese fles

(2)

- 1.10 Volgens die Lowry-Brønsted teorie, 'n basis ...

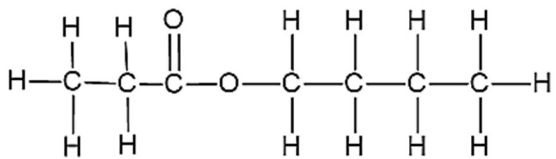
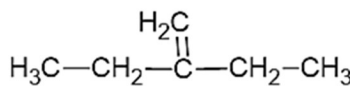
- A is 'n protonskenker.
- B is 'n proton-ontvanger.
- C sal hidroksiedione in 'n waterige oplossing vorm.
- D sal hidroniumione in 'n waterige oplossing vorm.

(2)
[20]



VRAAG 2 (Begin op 'n nuwe bladsy.)

Die letters **A** tot **H** in die onderstaande tabel verteenwoordig organiese verbindings.

A	Propanoësuur	B	$\text{CH}_3\text{CH}(\text{CH}_3)\text{CH}_2\text{CH}_2\text{COCH}_3$
C		D	$\text{CH}_3\text{CH}_2\text{CH}_2\text{CH}_2\text{CH}_2\text{COOH}$
E	$\text{CH}_3\text{CHBrCH}_2\text{CH}_2\text{CH}(\text{CH}_3)\text{CH}_3$	F	$\text{C}_7\text{H}_{14}\text{O}$
G	$\text{CH}_3(\text{CH}_2)_4\text{CH}_3$	H	

- 2.1 Definieer die term *homoloë reeks*. (2)
- 2.2 Wat is die naam van die funksionele groep van die homoloë reeks waaraan verbinding **A** behoort? (1)
- 2.3 Gebruik die bostaande tabel en skryf die letter neer wat elk van die volgende verteenwoordig:
- 2.3.1 'n Aldehyd (1)
- 2.3.2 'n Ester (1)
- 2.3.3 'n Onversadigde koolwaterstof (1)
- 2.3.4 'n Kettingisomeer van 2,2-dimetielbutaan (1)
- 2.4 Skryf die IUPAC-naam van:
- 2.4.1 Verbinding **C** (2)
- 2.4.2 Verbinding **E** (2)
- 2.5 Verbinding **D** reageer met 'n primêre alkohol wat vier koolstofatome bevat, in die teenwoordigheid van 'n katalisator.
- Skryf neer die:
- 2.5.1 Naam van die katalisator (1)
- 2.5.2 Tipe reaksie (1)
- 2.5.3 Naam EN formule van die anorganiese produk wat vorm (2)



- 2.6 Verbindings **B** en **F** is isomere.
- 2.6.1 Definieer die term *struktuurisomere*. (2)
- 2.6.2 Identifiseer die tipe isomere. Skryf slegs KETTING-, POSISIONELE- of FUNKSIONELE isomeer. (1)
- 2.6.3 Skryf die struktuurformule van verbinding **F** neer. (2)
- 2.7 Skryf die empiriese formule van verbinding **G** neer. (2)
- 2.8 Gee die algemene formule van verbinding **H**. (1)
- 2.9 Verbinding **G** ondergaan volledige verbranding. Gebruik molekulêre formules en skryf die gebalanseerde vergelyking vir hierdie reaksie neer. (3)
- [26]**

VRAAG 3 (Begin op 'n nuwe bladsy.)

Die smeltpunte van vyf organiese verbindings met bekende molêre massas is tydens 'n praktiese ondersoek, bepaal. Die resultate word in die tabel hieronder getoon.

	VERBINDING	MOLÊRE MASSA (g·mol ⁻¹)	SMELTPUNT (°C)
P	CH ₃ CH ₂ CH ₃	44	-188
Q	CH ₃ CH ₂ CH ₂ CH ₃	58	-138
R	CH ₃ CH ₂ CH ₂ CH ₂ CH ₃	72	-130
S	CH ₃ CH(CH ₃)CH ₂ CH ₃	72	-160
T	CH ₃ C(CH ₃) ₂ CH ₃	72	-16

- 3.1 Definieer die term *smeltpunt*. (2)
- 3.2 Vir verbindings **P**, **Q** en **R**, skryf neer:
- 3.2.1 Die afhanklike veranderlike (1)
- 3.2.2 Die gekontroleerde veranderlike (1)
- 3.2.3 'n Ondersoekende vraag (2)
- 3.2.4 'n Verduideliking vir die tendens van die smeltpunte van hierdie verbindings. (3)



3.3 Beskou verbinding **R** en verbinding **S**.

3.3.1 Watter verbinding sal 'n hoër kookpunt hê? (1)

3.3.2 Watter verbinding sal 'n laer dampdruk hê? (1)

3.3.3 Verduidelik die antwoord op VRAAG 3.3.1. (3)

3.4 Beskou verbinding **T**.

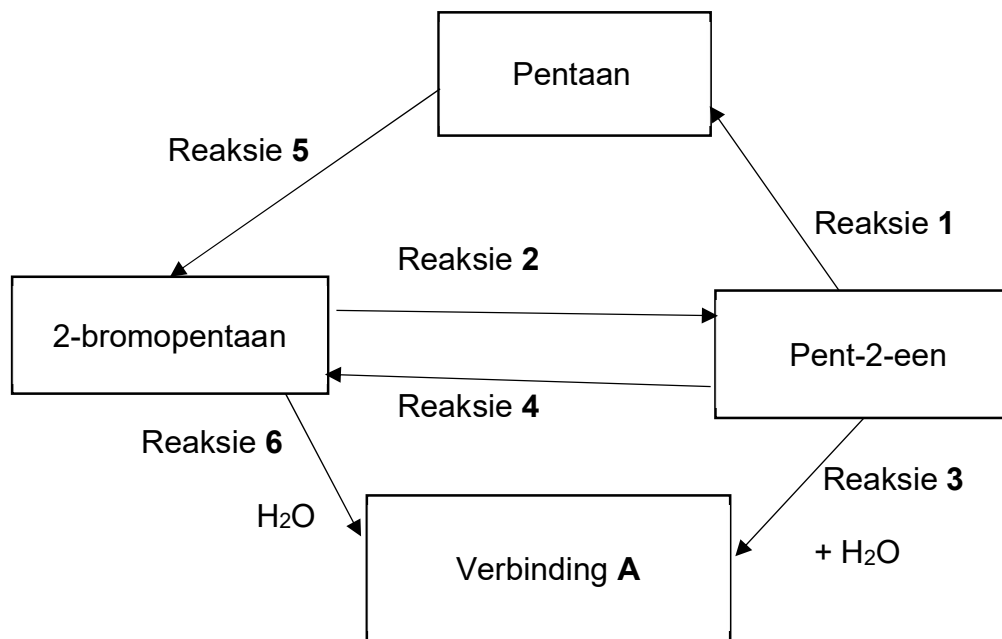
3.4.1 Tot watter homoloë reeks behoort hierdie verbinding? (1)

3.4.2 Skryf die IUPAC-naam vir die verbinding neer. (2)

[17]

VRAAG 4 (Begin op 'n nuwe bladsy.)

Die vloeiagram hieronder verteenwoordig 6 verskillende organiese reaksies wat deur verskeie organiese verbindings ondergaan word.



4.1 Benoem die TIPE addisie reaksie wat plaasvind by:

4.1.1 Reaksie 1 (1)

4.1.2 Reaksie 3 (1)

4.1.3 Reaksie 4 (1)





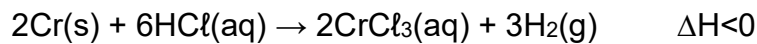
- 4.2 Vir reaksie **2**, skryf neer die:
- 4.2.1 Tipe reaksie wat plaasvind (1)
- 4.2.2 Twee reaksiekondisies benodig (2)
- 4.2.3 Gebalanseerde chemiese vergelyking deur gebruik te maak van STRUKTUURFORMULES (5)
- 4.3 Beskou reaksie **3**.
- 4.3.1 Tot watter homoloë reeks behoort verbinding **A**? (1)
- 4.3.2 Skryf neer die struktuurformule van verbinding **A**. (2)
- 4.3.3 Skryf neer die IUPAC-naam vir verbinding **A**. (2)
- 4.4 Skryf neer 'n gebalanseerde chemiese vergelyking vir reaksie **4** deur gebruik te maak van gekondenseerde struktuurformules. (4)
- 4.5 Benoem die tipe reaksie verteenwoordig deur reaksie **5**. (1)
- 4.6 Beskou reaksie **6**.
- 4.6.1 Identifiseer die tipe substitusiereaksie. (1)
- 4.6.2 Stel 'n alternatiewe reaktant voor as water nie beskikbaar is nie. (1)
- [23]**



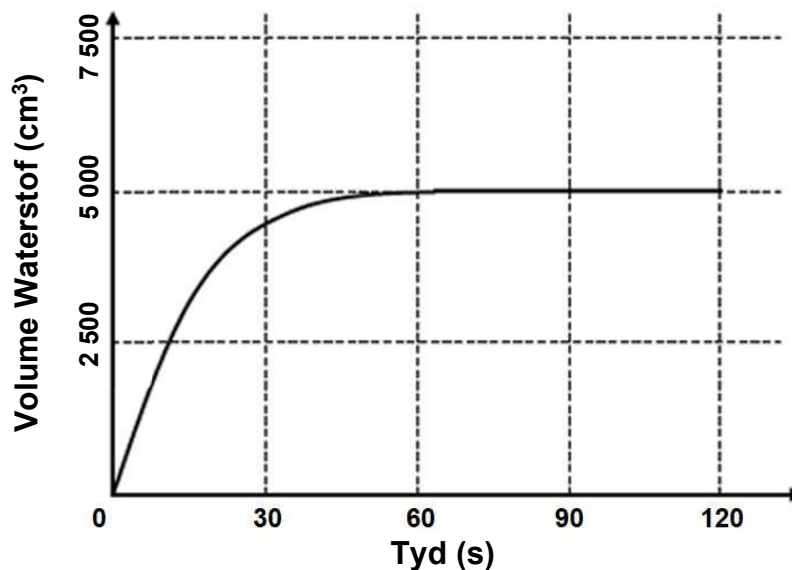
VRAAG 5 (Begin op 'n nuwe bladsy.)

Wanneer chroommetaal by soutsuur gevoeg word, ondergaan dit 'n reaksie wat 'n kenmerkende groen oplossing van chroom(III)chloried, sowel as waterstofgas, produseer.

Die gebalanseerde vergelyking kan soos volg voorgestel word:



- 5.1 Definieer die term *reaksietempo*. (2)
- 5.2 Noem TWEE eksperimentele metodes wat gebruik kan word om hierdie reakstempo in 'n skoollaboratorium te meet. (2)
- 5.3 Tydens die eksperiment word 8,67 g verpoeierde chroommetaal by 'n oormaat soutsuur in 'n fles gevoeg. Die reaksie produseer waterstofgas wat by STD opgevang word. Die volume van die waterstofgas wat gevorm was, is op gereelde tydintervalle gemeet, en die resultate was gebruik om die grafiek hieronder te teken.

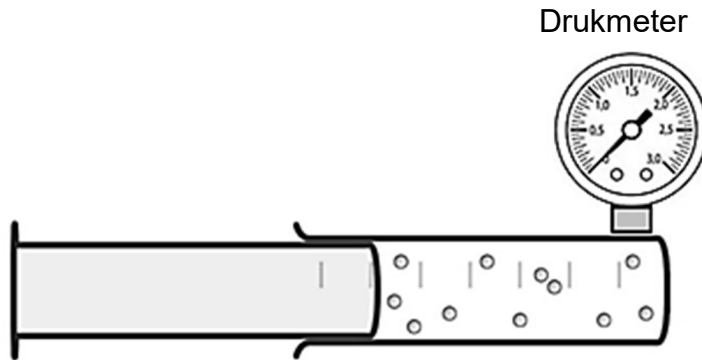


- 5.3.1 Bereken die gemiddelde tempo (in $\text{dm}^3 \cdot \text{s}^{-1}$) vir die bostaande reaksie vir die eerste 60 s. (4)
- 5.3.2 Bereken die massa waterstofgas wat geproduseer is. (4)
- 5.3.3 Bereken die persentasie opbrengs van die waterstofgas in dié reaksie. (5)
- 5.3.4 As 'n KLONT chroom gebruik word, hoe sal dit die tempo van die reaksie beïnvloed? Kies uit VERHOOG, VERLAAG of BLY DIESELFDE. (1)
- 5.3.5 Gebruik die botsingsteorie om die antwoord op VRAAG 5.3.4 volledig te verduidelik. (3)

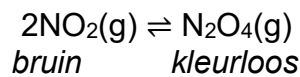


VRAAG 6 (Begin op 'n nuwe bladsy.)

Die ewewigmengsel van stikstofdoksied (NO_2), 'n bruin gas met 'n skerp, onaangename reuk, en kleurlose distikstoftetroksied (N_2O_4) word ondersoek deur gebruik te maak van 'n verseelde industriële gasspuit. Hierdie kleurverandering maak dit moontlik om die vordering van die ewewig visueel waar te neem.



Die gebalanseerde vergelyking is as volg:



- 6.1 Stel *Le Chatelier se beginsel*. (2)
- 6.2 Is die bostaande sisteem OOP of GESLOTE? Gee 'n rede vir die antwoord. (2)
- 6.3 Hoe sal ELKEEN van die volgende veranderinge die konsentrasie van $\text{N}_2\text{O}_4(\text{g})$ by ewewig beïnvloed?
- Kies uit VERHOOG, VERLAAG of BLY DIESELFDE.
- 6.3.1 Die suier word gedruk om die volume te verminder. (1)
- 6.3.2 'n Katalisator word bygevoeg. (1)
- 6.4 Die spuit word nou in 'n waterbad geplaas wat met ysblokkies gevul is. Die gas binne die spuit begin kleurloos word.
- 6.4.1 Is die voorwaartse reaksie ENDOTERMIES of EKSOTERMIES? (1)
- 6.4.2 Gebruik *Le Chatelier se beginsel* om die antwoord op VRAAG 6.4.1 te verduidelik. (3)



- 6.5 Die verseëde industriële gasspuit word uit die waterbad verwyder en toegelaat om ewewig te bereik by 298 K. By ewewig bevat die mengsel 0,52 mol NO₂ en 0,08 mol N₂O₄. Die volume van die gasspuit is 1 000 cm³.

Die gasspuit word dan in 'n warm waterbad by 373 K geplaas. 'n Nuwe ewewig word bereik en daar word bepaal dat op hierdie punt die mengsel 8,28 g N₂O₄ bevat.

Bereken die:

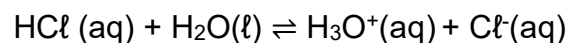
- 6.5.1 Aantal mol N₂O₄ by die nuwe ewewig (3)

- 6.5.2 Waarde van die ewewigskonstante, K_c, by dié temperatuur (7)

[20]

VRAAG 7 (Begin op 'n nuwe bladsy.)

Soutsuur (HCl), is 'n sterk suur. Dit los op in water, soos getoon in die vergelyking hieronder:



- 7.1 Verduidelik wat word bedoel met die term *sterk suur*. (2)

- 7.2 Identifiseer EEN gekonjugeerde suur-basispaar. (2)

- 7.3 Soutsuur is 'n monoprotiese suur. Gee 'n rede daarvoor. (1)



7.4 'n 150 cm³ soutsuur, HCl(aq), oplossing met 'n konsentrasie van 0,8 mol·dm⁻³ is beskikbaar in 'n laboratorium vir eksperimente.

7.4.1 Bereken die aantal mol soutsuur in hierdie oplossing. (3)

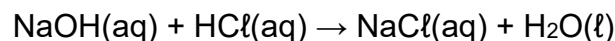
Die volle 150 cm³ soutsuuroplossing, HCl(aq), word toegelaat om te reageer met **X** g kalsiumkarbonaat, CaCO₃(s), volgens die gebalanseerde chemiese vergelyking:



Dit word bevind dat die soutsuuroplossing in oormaat is.

Die oormaat soutsuur, HCl(aq), word geneutraliseer deur 'n 60 cm³ natriumhidroksied, NaOH(aq), oplossing met 'n konsentrasie van 0,5 mol·dm⁻³.

Die neutralisasiereaksie is soos hieronder getoon:



7.4.2 Bereken die waarde van **X**. (7)

7.4.3 Sal die sout wat in die neutralisasiereaksie gevorm word, hidrolise ondergaan? Gee 'n rede vir die antwoord. (2)

7.4.4 Broomtimolblou word as die indikator gebruik. Verduidelik waarom dit die geskikste indikator vir die titrasie is deur te verwys na die pH by die ekwivalente punt. (2)

7.5 In waterige oplossings bepaal die konsentrasies van hidroniumione en hidroksiedione die suurheid of alkaliniteit van 'n oplossing.

Bereken die pH van kaliumhidroksied, KOH(aq), oplossing met 'n konsentrasie van $2,5 \times 10^{-7}$ mol·dm⁻³ by 'n temperatuur van 298 K. (4)

[23]

TOTAAL: 150



DATA FOR PHYSICAL SCIENCES GRADE 12
PAPER 2 (CHEMISTRY)
GEGEWENS VIR FISIESE WETENSKAPPE GRAAD 12
VRAESTEL 2 (CHEMIE)
TABLE 1: PHYSICAL CONSTANTS/TABEL 1: FISIESE KONSTANTES

NAME/NAAM	SYMBOL/SIMBOOL	VALUE/WAARDE
Standard pressure <i>Standaarddruk</i>	p^θ	$1,013 \times 10^5 \text{ Pa}$
Molar gas volume at STP <i>Molêre gasvolume by STD</i>	V_m	$22,4 \text{ dm}^3 \cdot \text{mol}^{-1}$
Standard temperature <i>Standaardtemperatuur</i>	T^θ	273 K
Charge on electron <i>Lading op elektron</i>	e	$-1,6 \times 10^{-19} \text{ C}$
Avogadro's constant <i>Avogadro-konstante</i>	N_A	$6,02 \times 10^{23} \text{ mol}^{-1}$

TABLE 2: FORMULAE/TABEL 2: FORMULES

$n = \frac{m}{M}$	$n = \frac{N}{N_A}$
$c = \frac{n}{V}$ OR/OF $c = \frac{m}{MV}$	$n = \frac{V}{V_M}$
$\frac{c_a V_a}{c_b V_b} = \frac{n_a}{n_b}$	$\text{pH} = -\log[\text{H}_3\text{O}^+]$
$K_w = [\text{H}_3\text{O}^+][\text{OH}^-] = 1 \times 10^{-14} \text{ at/by } 298 \text{ K}$	
$E_{\text{cell}}^\theta = E_{\text{cathode}}^\theta - E_{\text{anode}}^\theta / E_{\text{sel}}^\theta = E_{\text{katode}}^\theta - E_{\text{anode}}^\theta$ or/of $E_{\text{cell}}^\theta = E_{\text{reduction}}^\theta - E_{\text{oxidation}}^\theta / E_{\text{sel}}^\theta = E_{\text{reduksie}}^\theta - E_{\text{oksidasie}}^\theta$ or/of $E_{\text{cell}}^\theta = E_{\text{oxidising agent}}^\theta - E_{\text{reducing agent}}^\theta / E_{\text{sel}}^\theta = E_{\text{oksideermiddel}}^\theta - E_{\text{reduseermiddel}}^\theta$	


SA EXAM PAPERS

Proudly South African

TABLE 3: THE PERIODIC TABLE OF ELEMENTS/TABEL 3: DIE PERIODIEKE TABEL VAN ELEMENTE

		1	2	3	4	5	6	7	8	9	10	11	12	13	14	15	16	17	18
		(I)	(II)											(III)	(IV)	(V)	(VI)	(VII)	(VIII)
1	H	1	2	3	4	5	6	7	8	9	10	11	12	13	14	15	16	17	18
2	He																		
3	Li	3	4	5	6	7	8	9	10	11	12	13	14	15	16	17	18	19	20
4	Be																		
5	B	5	6	7	8	9	10	11	12	13	14	15	16	17	18	19	20	21	22
6	C																		
7	N	7	8	9	10	11	12	13	14	15	16	17	18	19	20	21	22	23	24
8	O																		
9	F	9	10	11	12	13	14	15	16	17	18	19	20	21	22	23	24	25	26
10	Ne																		
11	Na	11	12	13	14	15	16	17	18	19	20	21	22	23	24	25	26	27	28
12	Mg																		
13	Al	13	14	15	16	17	18	19	20	21	22	23	24	25	26	27	28	29	30
14	Si																		
15	P	15	16	17	18	19	20	21	22	23	24	25	26	27	28	29	30	31	32
16	S																		
17	Cl	17	18	19	20	21	22	23	24	25	26	27	28	29	30	31	32	33	34
18	Ar																		
19	K	19	20	21	22	23	24	25	26	27	28	29	30	31	32	33	34	35	36
20	Ca																		
21	Sc	21	22	23	24	25	26	27	28	29	30	31	32	33	34	35	36	37	38
22	Ti																		
23	V	23	24	25	26	27	28	29	30	31	32	33	34	35	36	37	38	39	40
24	Cr																		
25	Mn	25	26	27	28	29	30	31	32	33	34	35	36	37	38	39	40	41	42
26	Fe																		
27	Cobalt	27	28	29	30	31	32	33	34	35	36	37	38	39	40	41	42	43	44
28	Ni																		
29	Cu	29	30	31	32	33	34	35	36	37	38	39	40	41	42	43	44	45	46
30	Zn																		
31	Ga	31	32	33	34	35	36	37	38	39	40	41	42	43	44	45	46	47	48
32	Ge																		
33	As	33	34	35	36	37	38	39	40	41	42	43	44	45	46	47	48	49	50
34	Se																		
35	Br	35	36	37	38	39	40	41	42	43	44	45	46	47	48	49	50	51	52
36	Kr																		
37	Rb	37	38	39	40	41	42	43	44	45	46	47	48	49	50	51	52	53	54
38	Sr																		
39	Y	39	40	41	42	43	44	45	46	47	48	49	50	51	52	53	54	55	56
40	Zr																		
41	Nb	41	42	43	44	45	46	47	48	49	50	51	52	53	54	55	56	57	58
42	Mo																		
43	Tc	43	44	45	46	47	48	49	50	51	52	53	54	55	56	57	58	59	60
44	Ru																		
45	Rh	45	46	47	48	49	50	51	52	53	54	55	56	57	58	59	60	61	62
46	Pd																		
47	Ag	47	48	49	50	51	52	53	54	55	56	57	58	59	60	61	62	63	64
48	Cd																		
49	In	49	50	51	52	53	54	55	56	57	58	59	60	61	62	63	64	65	66
50	Sn																		
51	Sb	51	52	53	54	55	56	57	58	59	60	61	62	63	64	65	66	67	68
52	Te																		
53	I	53	54	55	56	57	58	59	60	61	62	63	64	65	66	67	68	69	70
54	Xe																		
55	Cs	55	56	57	58	59	60	61	62	63	64	65	66	67	68	69	70	71	72
56	Ba																		
57	La	57	58	59	60	61	62	63	64	65	66	67	68	69	70	71	72	73	74
58	Ce																		
59	Pr	59	60	61	62	63	64	65	66	67	68	69	70	71	72	73	74	75	76
60	Nd																		
61	Pm	61	62	63	64	65	66	67	68	69	70	71	72	73	74	75	76	77	78
62	Sm																		
63	Eu	63	64	65	66	67	68	69	70	71	72	73	74	75	76	77	78	79	80
64	Gd																		
65	Tb	65	66	67	68	69	70	71	72	73	74	75	76	77	78	79	80	81	82
66	Dy																		
67	Ho	67	68	69	70	71	72	73	74	75	76	77	78	79	80	81	82	83	84
68	Er																		
69	Tm	69	70	71	72	73	74	75	76	77	78	79	80	81	82	83	84	85	86
70	Yb																		
71	Lu	71	72	73	74	75	76	77	78	79	80	81	82	83	84	85	86	87	88
72	Hf																		
73	Ta	73	74	75	76	77	78	79	80	81	82	83	84	85	86	87	88	89	90
74	Hf																		
75	W	75	76	77	78	79	80	81	82	83	84	85	86	87	88	89	90	91	92
76	Os																		
77	Ir	77	78	79	80	81	82	83	84	85	86	87	88	89	90	91	92	93	94
78	Pt																		
79	Au	79	80	81	82	83	84	85	86	87	88	89	90	91	92	93	94	95	96
80	Hg																		
81	Tl	81	82	83	84	85	86	87	88	89	90	91	92	93	94	95	96	97	98
82	Pb																		
83	Bi	83	84	85	86	87	88	89	90	91	92	93	94	95	96	97	98	99	100
84	Po																		
85	At	85	86	87	88	89	90	91	92	93	94	95	96	97	98	99	100	101	102
86	Rn																		
87	Fr	87	88	89	90	91	92	93	94	95	96	97	98	99	100	101	102	103	104
88	Ra																		
89	Ac	89	90	91	92	93	94	95	96	97	98	99	100	101	102	103	104	105	106
90	Th																		
91	Pa	91	92	93	94	95	96	97	98	99	100	101	102	103	104	105	106	107	108
92	U																		
93	Np	93	94	95	96	97	98	99	100	101	102	103	104	105	106	107	108	109	110
94	Pu																		
95	Am	95	96	97	98	99	100	101	102	103	104	105	106	107	108	109	110	111	112
96	Cm																		
97	Bk	97	98	99	100	101	102	103	104	105	106	107	108	109	110	111	112	113	114
98	Cf																		
99	Es	99	100	101	102	103	104	105	106	107									